

« سال نو مبارک »

نرم نرمک صدای پای بهار به گوش می رسد ،
سلانه سلانه ، زمستان هجرت می کند . بهار فصل تولد زمین است
آنجا که خاک قبای سفید از تن می کند و جامه سبز می پوشد .
بهار فصل تولد دوباره است . فصل رویشی نو و زایشی مبارک ،
بهار تداعی امید است ، آنجا که زمستان سرد و یخ بسته را
به امید رسیدن بهاری نو ، پشت سر می گذاریم .
آنجا که برهنگی درختان را به امید طراوت بهار زیننده می بینیم ...
بهار موسم عشق است ، الفت آب و خاک ، گل و پرند ، سبزه و زمین ...
عظمت و شکوه خداوند را در تمامی فصول سال می توان به وضوح دید ،
حلاوت دلچسب تابستان ، صفای برگ ریز پاییز ، غرور سرمای زمستان ...
اما بهار مهری بر تائید صفت جمیل خداوند است .

« الله جمیل و یحب الجمال »

بهار آنجا زیننده تر است که دلها مان نیز بهاری باشد ،
دلها مان آکنده از نشاط سبز باشد و لبریز از سرودی خوش ...
در آستانه تولد دوباره زمین ...
دلی پر امید ... قلبی پر تپش ... دستانی با برکت ... لبانی پر خنده ...
پاهایی پر توان ... کسب و کاری پر رونق ...
و سالی پر نشاط را برای همه شما آرزومندیم .

« مدیر دبستان »



نوروز

پروانه های رنگی

می رقصند روی گل ها

در دشت و در بیابان

در باغ های زیبا

مادر بزرگ فوبم

دوباره سفره چیده

هفت سین سفره گوید


که سال نو رسیده

ای بچه ها بپنید

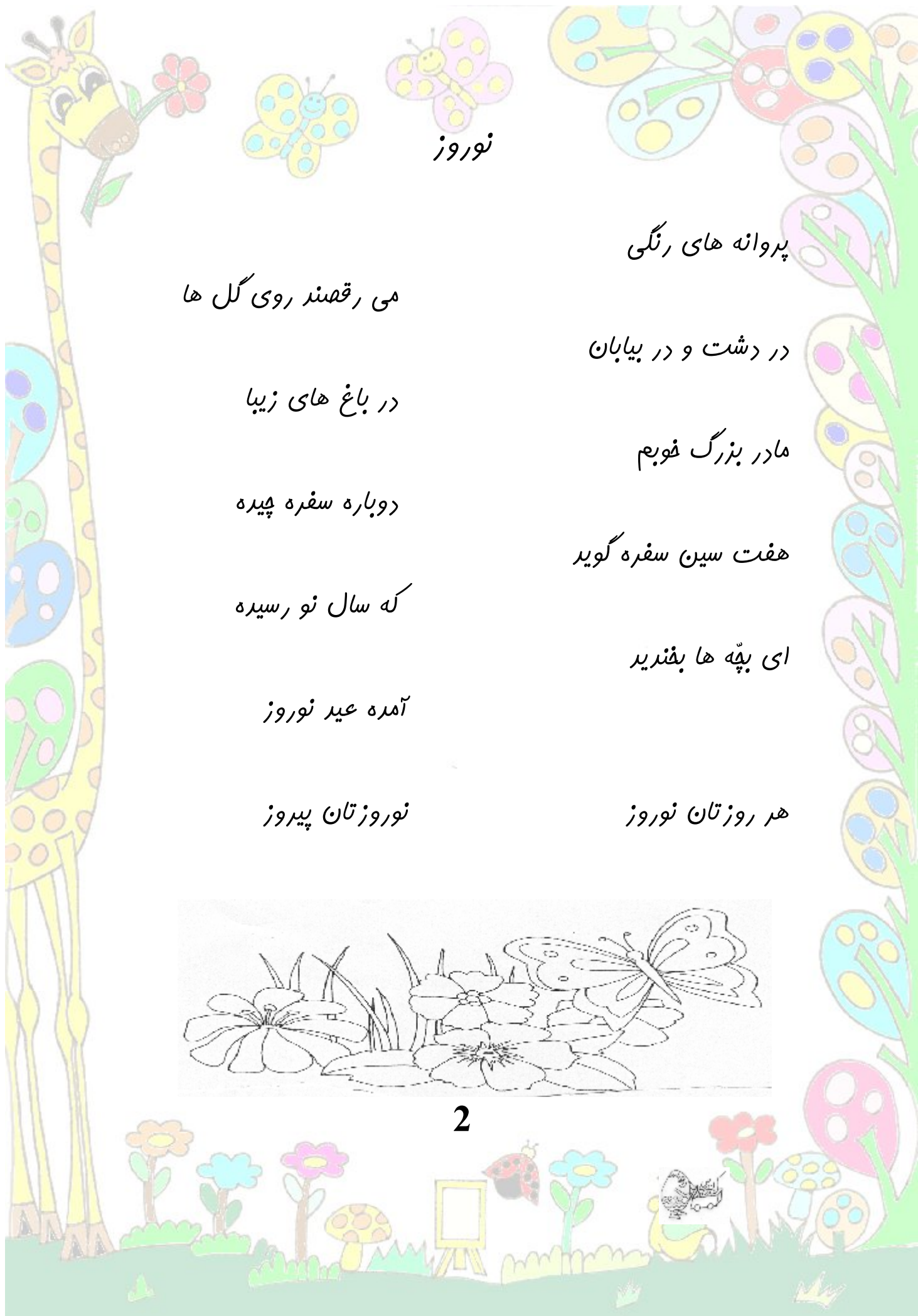
آمده عید نوروز

نوروزتان پیروز

هر روزتان نوروز



2



1- برای شکل ، سه جمله ی زیبا بنویس و یک نام مناسب

برای آن انتخاب کن

اگر یک شافه گل بودی ، دوست داشتنی دیگران چگونه با تو رفتار کنند ؟



.....

.....

.....

.....

2- با توجه به شکل و کلمه های داده شده ، دو جمله بنویس.

(ژاکت گل ژاله آب)



.....

.....

.....

.....

3- شعر پریم را بفوان و دور کلمات 3 بفشی گردی بکش. پریم را رنگ کن.



سه رنگ پریم ماست

بهترین پریم هاست

ما کودکان ایران

همیشه از دل جان

سبز و سفید و قرمز

پریم ایران ما




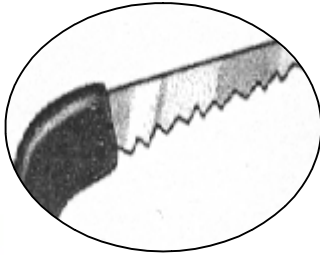
سلام دهیم به پریم

ما همه دوستش داریم



4- کلمه های زیر را بفوان و نشانه هایی که دو بار خوانده می شود را بنویس.

مَلّت مَکّه سوّمی قَلّگ موّقّق شَدّت


5- نام هر تصویر را بنویس.




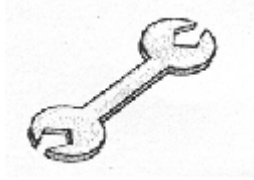
6- چهار اختلاف در دو شکل پایین وجود دارد آن ها را پیدا کن و علامت بزنی.




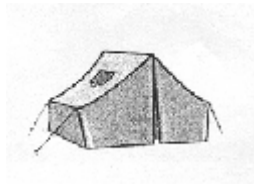
7- فکر می کنی فروس چه تصمیمی بگیرد؟



8- نام هر تصویر را بنویس.



.....




.....

9- یک جمله ی فنده دار بنویس و آن ها را به هم ربط بده.



.....



گرگ بدجنس و فرگوش مهربان



روزی فرگوش بازیگوش در جنگل گردش می کرد و به این سمت و آن سمت می دوید. ناگهان صدای فریادی را شنید. به سمت صدا رفت. چشمش به گرگی افتاد که سنگ بزرگی از بالای تپه روی کمرش افتاده بود و نمی توانست از جایش بلند شود. فرگوش مهربان دلش سوخت و فکر کرد که بهتر است به گرگ کمک کند. او خیلی تلاش کرد و سنگ را کنار زد تا این که گرگ نجات پیدا کرد اما وقتی که جلوتر رفت گرگ ناگهان از پشت سر پرید و فرگوش را به دهان گرفت. فرگوش گریه کنان از گرگ فواست که او را نفورد و به گرگ گفت: « من به تو کمک کردم، جواب فوبی دیگران این نیست! کمی فکر کن، تو داری اشتباه می کنی. بنابراین قرار گذاشتند پیش اسب دانا بروند تا او بگوید سفن چه کسی درست است. » آن ها به راه افتادند تا به خانه ی اسب رسید اسب ماجرا را فهمید گفت: « باید من دوباره همان سنگ را روی کمر گرگ بینم تا بگویم کدام یک درست می گوید؟

اسب و فرگوش دوباره سنگ بزرگی را روی کمر گرگ گذاشتند. این بار گرگ به دام افتاده بود و از کار خود پشیمان شد.



اسب گفت: « این سزای کسی است که کار فوب کسی را با بری پاسخ دهد. »
به پرسش های زیر پاسخ بده.



- اشتباه گرگ چه بود؟
 - به نظر تو گرگ بهتر بود چه کار می کرد؟
 - وقتی کسی به شما کمک کند شما در جوار، او چه می کنید؟
- دخترم، با توجه به داستان پاسخ درست را رنگ بزن.

غ
 غلط

درست
 درست

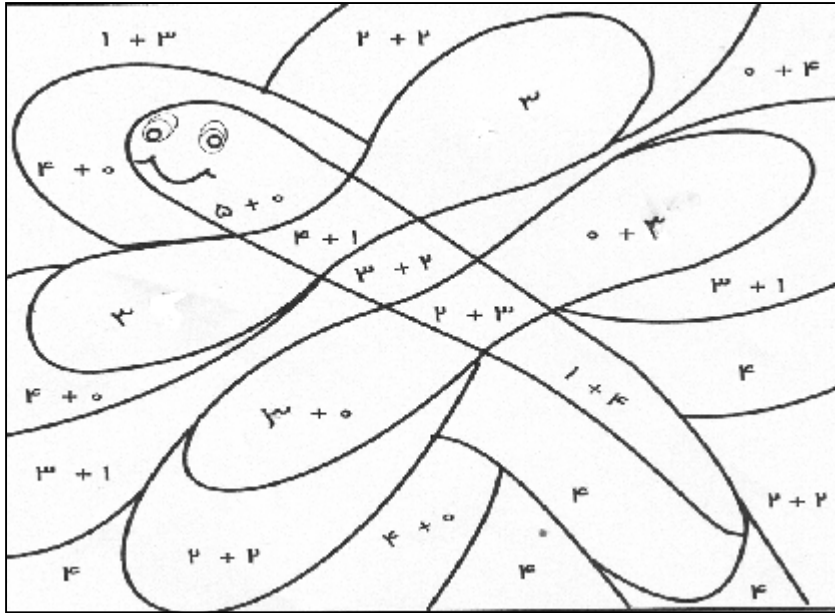
1) فرگوش به گرگ کمک کرده بود.

2) گرگ گفت: « این سزای کسی است که کار فوب کسی را با بری پاسخ دهد. »

بازی با ریاضی




1- رنگ بزن تا شکل مفی را پیدا کنی. 3 = زرد 5 = سیاه 4 = آبی



2- به تصویر نگاه کن.

برای 3 قسمت می توانی تفریق بنویسی.

آن ها را پیدا کن و بنویس.



..... - =

..... - =

..... - =

3- علامت مناسب یا یا

7 4 = 3

7 4 = 3

5 3 = 2

5 3 = 2

1 12

10 2 = 12

7

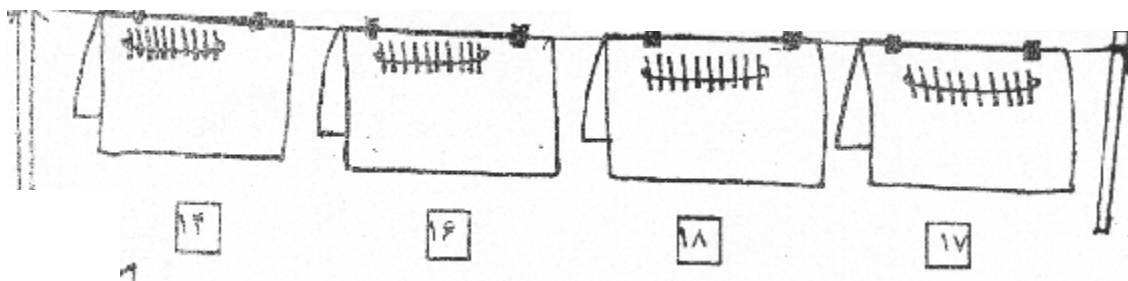
4- جاهای خالی را مانند نمونه کامل کنید.

$$\begin{array}{l} 4 + \square \\ 6 + \square \\ 5 + \square \end{array} = 7$$

$$\begin{array}{l} 5 + \square \\ 3 + \square \\ 2 + \square \end{array} = 9$$

$$\begin{array}{l} 4 + \square \\ 2 + \square \\ 6 + \square \end{array} = 8$$

5- با توجه به اعداد نوشته شده شکل مربوط به آن را کامل کنید.



6- در جای خالی عدد های مناسب بنویسید.

ده تایی	یکی

..... ده تایی و تا یکی

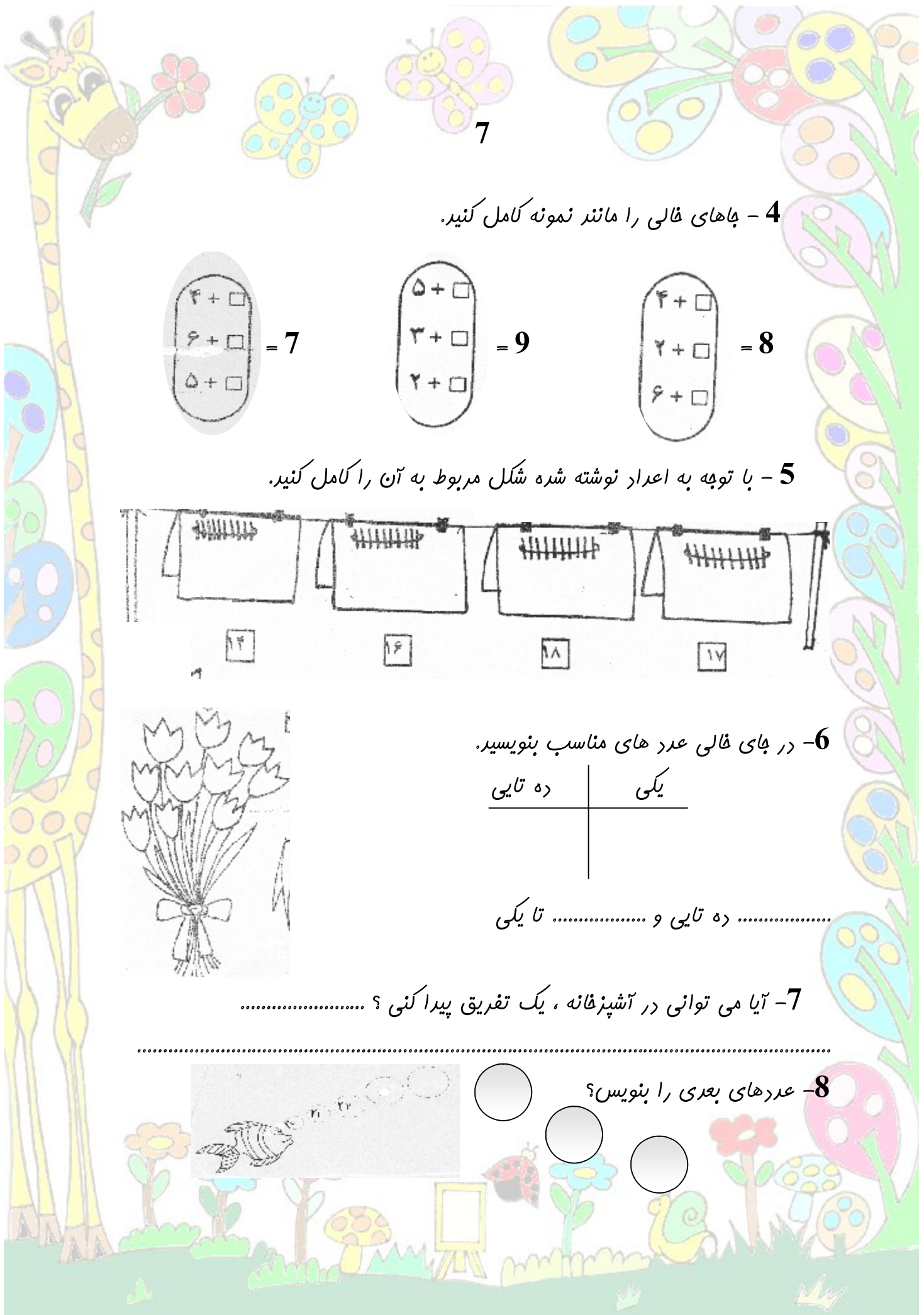


7- آیا می توانی در آشپزخانه ، یک تفریق پیدا کنی ؟

.....



8- عدد های بعدی را بنویس ؟

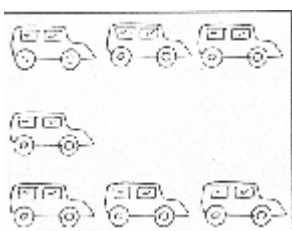


7- علامت < = > بگذار. (به نقطه ی کلمه ها توجه کن)


بادبان آبدان بابا



8- به پارکینگ ها توجه کن و تفریق بنویس.




ساعت 9 صبح



ساعت 3 بعد از ظهر


9- آزاره 5 ساله است. امین از او 2 سال کوچکتر است.
آن کیک را رنگ بزن. کدام یک برای امین است ؟



10- لباس بچه ها روی هم چند دکمه دارد ؟



11- برای میهمان ها شربت رنگ کن.




شعر وضو

دختر خوبم سعی کن این شعرها را حفظ کنی.

هالا بکش مسح پا
ای گل ناز و زیبا
تا جایزه بگیری
تو از مامان و بابا
هالا وقتی نمازه
موقع راز و نیازه
هر که نماز نفونه
تو زندگی می بازه

ای بچه جون در وضو
صورتو اول بشو
بعدش بشو دست راست
ای گل فوش رنگ و بو
دست چپت را عزیز
بشو تو خوب و تمیز
برای مسح سرت
آب دیگه رو دست نیز

به نظر تو ما چگونه می توانیم به
خانواده و دوستانمان نشان دهیم
که آنها را دوست داریم ؟
نقاشی بکش.



من به دیگران احترام می گذارم




کامپیوتر

1- سعی کنید با استفاده از ابزارهایی که تاکنون با آنها در برنامه نقاشی آشنا شده اید؛ در گوشه ی یک جنگل موش را به همراه خانواده اش که در کلبه ی زیبایی زندگی می کند در محیط نقاشی بکشید بعد به کمک پاکگر چاپ کنید و آن را همراه پیک نوری خود به مدرسه بیاورید.

2- وب سایت های فوب برای بچه های فوب
عروس فاله سوسکه و آقا موشه

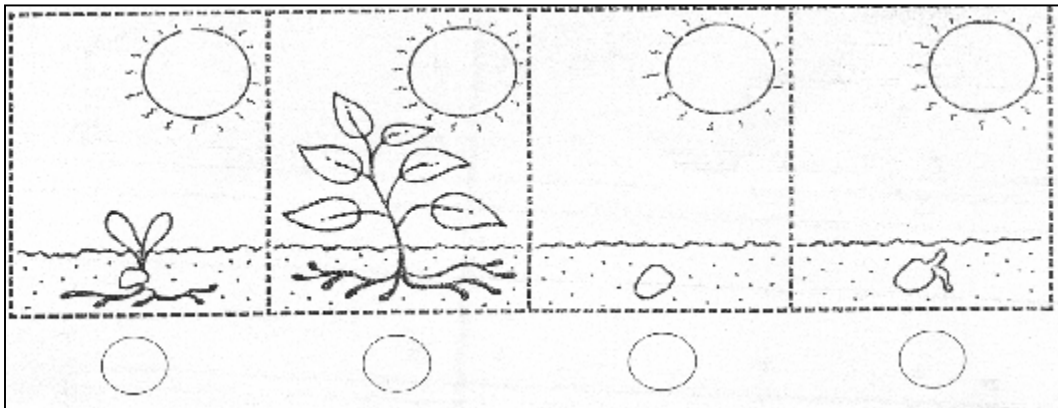
<http://www.frsiet.cm /ghesseh/khaleh-sooskeh/indem.html>

بگرد و پیدا کن




تعداد جانور، لابه لای درخت ها و در جاهای مختلف پنهان شده اند. آن ها را پیدا کن و نامشان را بنویس.



1- تصویرهای زیر، رشد یک دانه را نشان می دهد، آن ها را به ترتیب شماره گذاری کنید.



3- این بوجه پرنده نمی تواند پرواز کند. لانه ی خود را گم کرده است. کمک کنید تا او به لانه اش برگردد



2- کدام یک از ماشین های زیر راحت تر حرکت می کند. چرا؟ آن را رنگ کنید.



جدول



جدول را پُر کن.

1- ابر نزدیک به زمین را می گوئیم.

2- باران از چه می بارد.

3- با افتادن سنگ داخل آب درُست می

4- توپ را از آن پُر می کنیم.

5- از جا به جا شدن هوا به وجود می آید.

6- باران تند را می گوئیم.

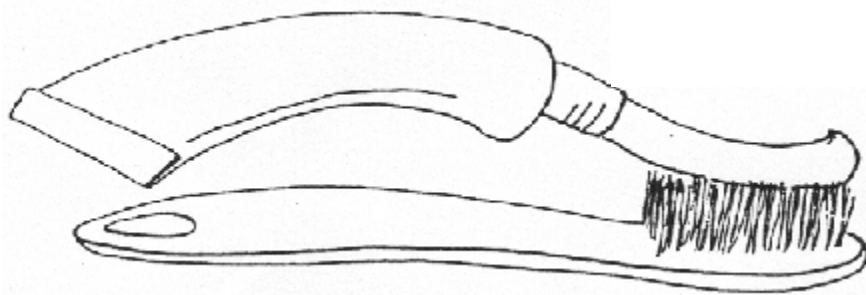
7- آب شدن یخ را آسان می کنند.

8- مزه آب با آن شیرین می شود.

←

□	□			
□	□	□		
□	□	□		
□	□	□		
□	□	□		
□	□	□	□	□
□	□	□		
□	□	□		



مسواک زدن یادت نرود.





نقاشی

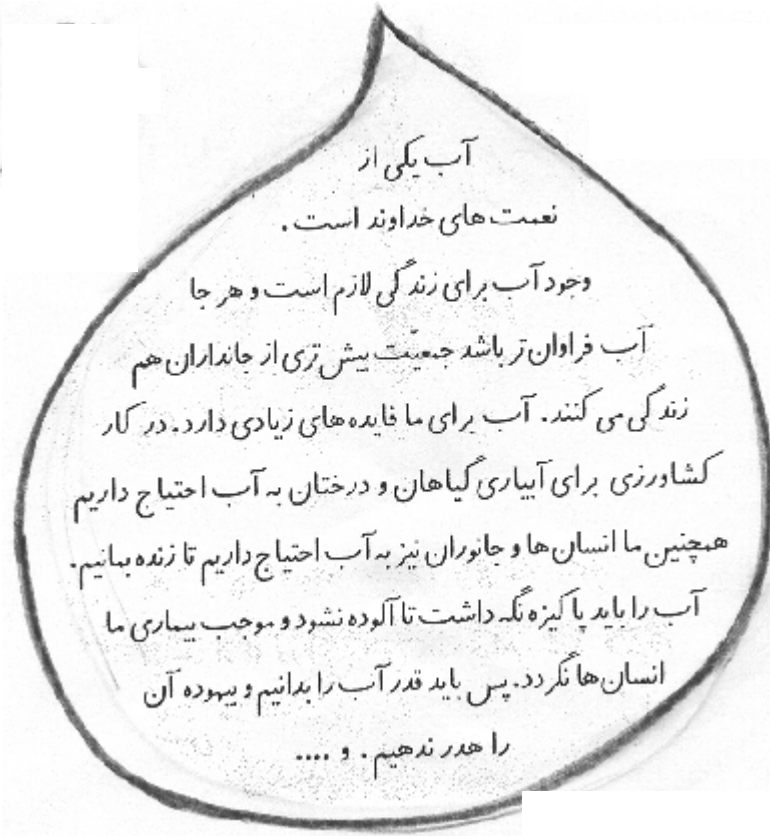
روز زیبای طبیعت



15



درباره ی آب پیش تر بدانیم



حالا به پرسش ها پاسخ بده.

چرا باید در مصرف آب صرفه جویی کنی ؟

.....

اگر بفواهی در مصرف آب صرفه جویی کنی چه کارهایی انجام می دهی ؟

.....

اگر یک قطره آب بودی دوست داشتی به کجاها سفر کنی ؟

.....